

# الرياضيات

الفرض رقم 3  
المستوى الثاني

2019|2020

النقطة

الاسم:

التاريخ:

2ن

1 ◆ أعد الكعكات التي أعدها أحمد وشامه وأكتب كل مجموع وكل جداء:

.....+.....+.....+.....+.....+.....+.....+.....=.....  
.....×.....=.....



.....+.....+.....+.....+.....+.....=.....  
.....×.....=.....



2ن

2 ◆ أكمل كل جداء:


2 × 5 =   
3 × 9 =

4 × 4 =   
5 × 10 =


6 × 8 =   
7 × 3 =

2ن


3 ◆ ألون الخانات وأكمل كل كتابة ضربية:




3×5= ...



6×4= ...



7×2= ...



5×8= ...

2ن

4 ◆ أكتب معلمة كل عقدة وأرسم كل شكل في عقده، ثم أرسم مسار سائق السيارة متبعا للقن:

■ (4, 5)

(.....)


▲ (2, 3)

(.....)

الانطلاق



الوصول



2ن

5 ◆ ألاحظ اللعاب، ثم أكمل ملء الجدول:

| اللعبة | علامات العد | العدد | أكمل رسم المربعات، حيث كل <input type="checkbox"/> يمثل 3 لعب |
|--------|-------------|-------|---|
|        |             |       |   |
|        |             |       |   |
|        |             |       |   |

